

کاربرگی شماره ۱

خودتان را ارزیابی کنید.

(الف) عبارتها را بخوانید و داخل مربع را علامت بزنید.

۱- وقتی به صحبت‌های کسی گوش می‌کنم، به او نگاه می‌کنم.

۲- وقتی به صحبت‌های کسی گوش می‌کنم، حرف او را قطع نمی‌کنم و صبر می‌کنم تا حرفش تمام شود.

۳- به دقت به صحبت‌های گوینده گوش می‌کنم و حواسم جای دیگری نیست.

۴- در یک گفت و گوی گروهی، نوبت را رعایت می‌کنم.

۵- با صدای مناسب، نه خیلی بلند و نه خیلی آهسته، صحبت می‌کنم.

۶- فقط درباره‌ی یک موضوع صحبت می‌کنم و از این شاخه به آن شاخه نمی‌پریم.

۷- موقع صحبت کردن، به شنونده‌ها نگاه می‌کنم تا با دقت بیشتری به حرف‌هایم گوش کنند.

۸- منظورم را روشن و واضح بیان می‌کنم.

۹- در مورد زندگی شخصی دیگران، کنجکاو نمی‌کنم.

۱۰- وقتی می‌خواهم از کسی چیزی درخواست کنم، از کلمه‌هایی چون «لطفاً» و «خواهش می‌کنم» استفاده می‌کنم.

- | | |
|---|---|
| <input checked="" type="checkbox"/> بلی | <input type="checkbox"/> هنوز نه |
| <input checked="" type="checkbox"/> بلی | <input type="checkbox"/> هنوز نه |
| <input checked="" type="checkbox"/> بلی | <input type="checkbox"/> هنوز نه |
| <input type="checkbox"/> بلی | <input checked="" type="checkbox"/> هنوز نه |
| <input checked="" type="checkbox"/> بلی | <input type="checkbox"/> هنوز نه |
| <input type="checkbox"/> بلی | <input checked="" type="checkbox"/> هنوز نه |
| <input checked="" type="checkbox"/> بلی | <input type="checkbox"/> هنوز نه |
| <input type="checkbox"/> بلی | <input checked="" type="checkbox"/> هنوز نه |
| <input checked="" type="checkbox"/> بلی | <input type="checkbox"/> هنوز نه |
| <input type="checkbox"/> بلی | <input checked="" type="checkbox"/> هنوز نه |

(ب) برای مواردی که پاسخ شما «هنوز نه» است چه تصمیمی می‌گیرید؟ **پاسخ:** به عهده‌ی دانش‌آموز

کاربرگی شماره ۲

احساس ترس

۱- جدول را کامل کنید. موضوعاتی که از آنها می‌ترسید و میزان ترس خود را بنویسید.

میزان ترس	ترس من: به جای نابه‌جا	چیزها یا موضوعاتی که از آنها می‌ترسم
زیاد	به‌جا	از جانوران موذی می‌ترسم.
خیلی زیاد	به‌جا	از ارتفاع می‌ترسم
زیاد	نابه‌جا	از این که در جمع اظهارنظر کنم می‌ترسم
متوسط	نابه‌جا	از این که در جمع دوستانم شرکت کنم می‌ترسم
متوسط	به‌جا	از خیابان شلوغ به تنهایی رد شوم

میزان ترس: کم، متوسط، زیاد، خیلی زیاد

۲- دور مواردی که ترس شما نابجاست، خط بکشید و آنها را مشخص کنید.

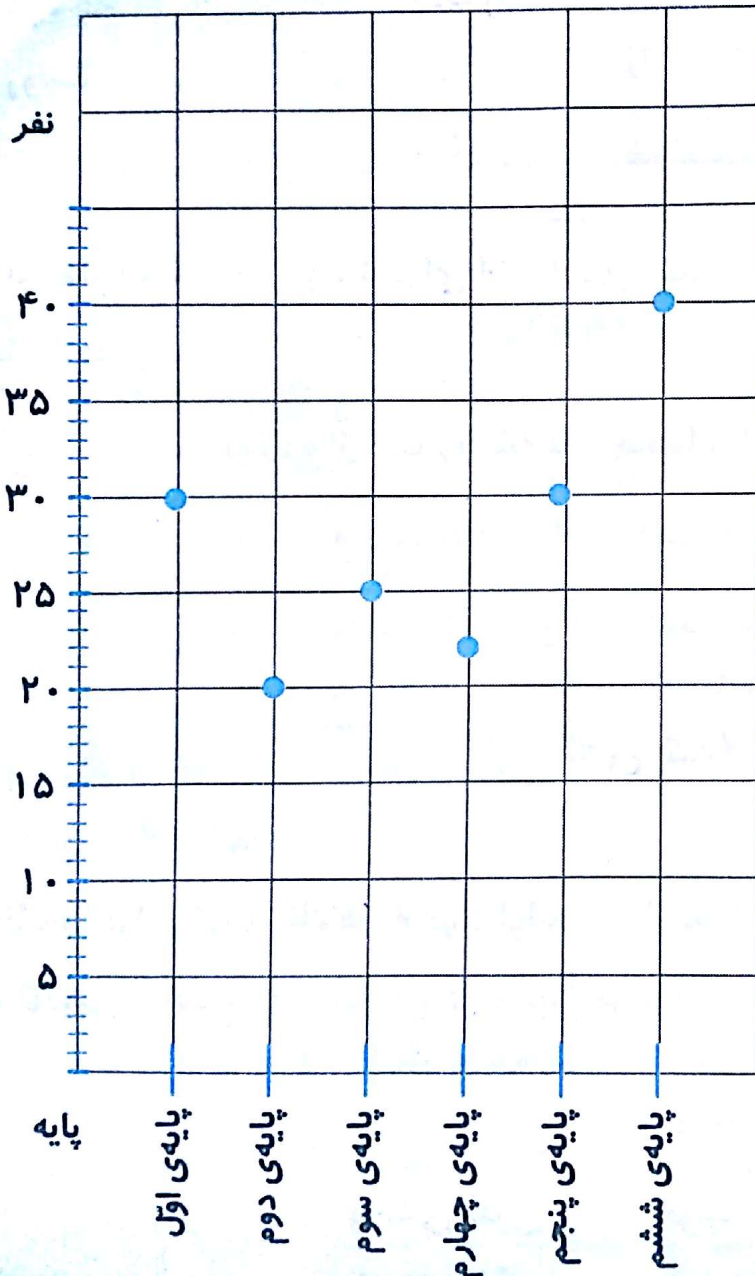
۳- برای برطرف کردن ترس‌های نابه‌جا از بزرگ‌ترها کمک بگیرید و با آنها مشورت کنید.

کاربرگی شماره‌ی ۳

جمعیت مدرسه‌ی ما

با پرس و جو از دفتر مدرسه‌تان، تعداد دانش‌آموزان کلاس‌ها را یادداشت کنید. سپس نمودار جمعیت دانش‌آموزان پایه‌های تحصیلی را رسم کنید و پرجمعیت‌ترین و کم‌جمعیت‌ترین پایه‌ها را با رنگ‌های متفاوت نشان دهید.

به طور مثال:



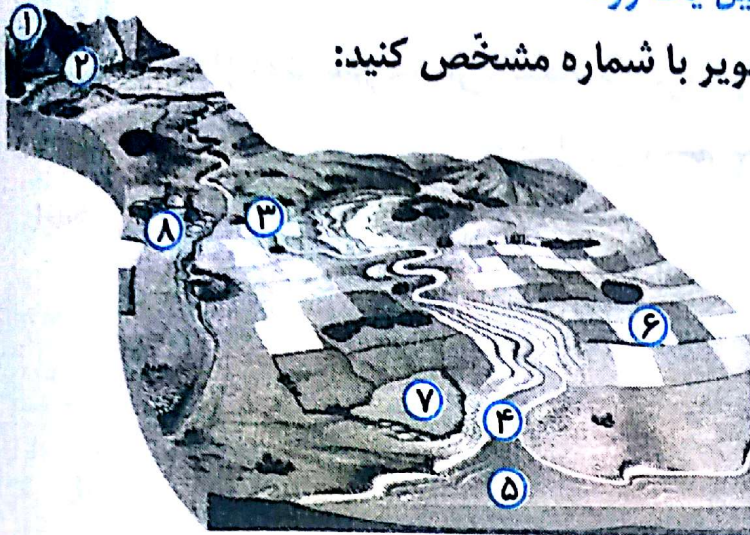
پایه	تعداد
اول	۳۰ نفر
دوم	۲۰ نفر
سوم	۲۵ نفر
چهارم	۲۲ نفر
پنجم	۳۰ نفر
ششم	۴۰ نفر

پایه‌ی دوم کم‌جمعیت‌ترین و پایه‌ی ششم پرجمعیت‌ترین کلاس می‌باشد.

کاربرگی شماره ۴

تشکیل یک رود

الف) جای هر یک از موارد زیر را بر روی تصویر با شماره مشخص کنید:



- ۱- سرچشمه‌ی رود
- ۲- جویبار
- ۳- رود
- ۴- دهانه‌ی رود
- ۵- دریا
- ۶- زمین‌های زراعی
- ۷- دریاچه
- ۸- روستا

ب) به نظر شما مردم روستا برای استفاده‌ی بهتر از آب چه کارهایی باید انجام دهند؟ به آنها پیشنهاد بدهید.

ک پاسخ: ۱) در استفاده از آب روخانه‌ها و چاه‌ها زیاده‌روی نکنند.

۲) فاضلاب‌ها و سموم زمین‌های زراعی را در آب‌ها نریزند.

۳) به صورت مدیریت شده از منابع آبی خود استفاده کنند.

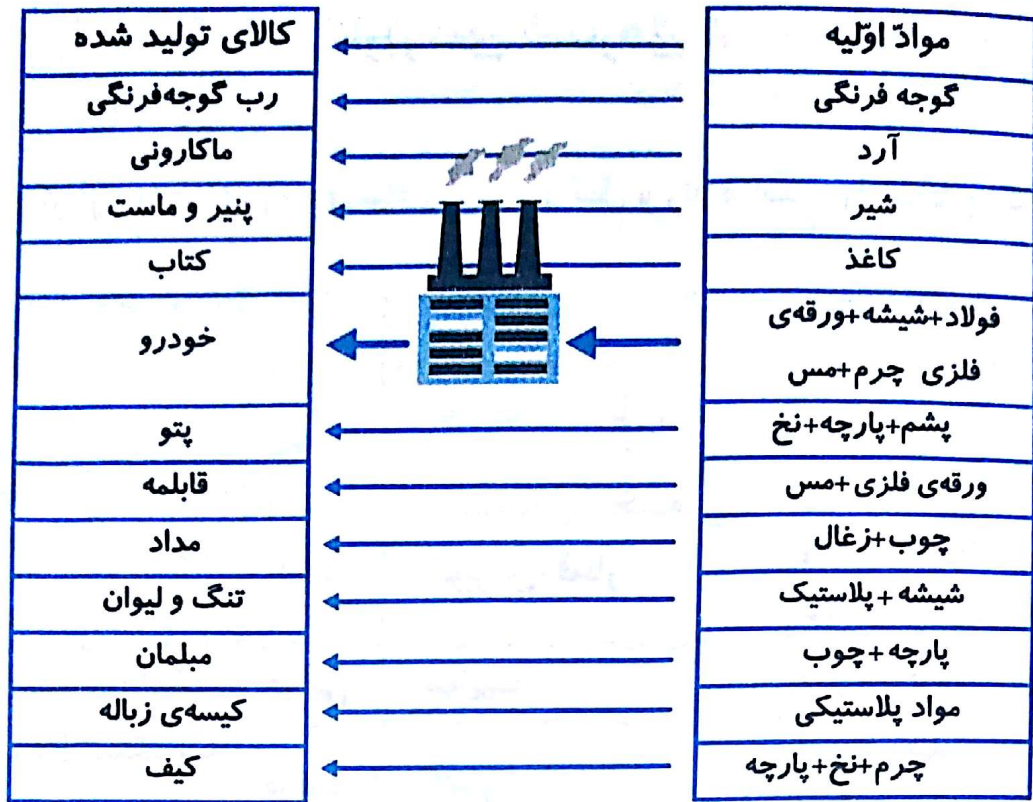
کاربرگی شماره ۵

مواد اولیه کارخانه‌ها


کارخانه‌ها برای تولید کالاها به مواد اولیه‌ی مختلف نیاز دارند، از جدول زیر استفاده کنید و مواد اولیه‌ی مناسب را انتخاب و در ستون مربوط به آن بنویسید.

مواد اولیه

فولاد	چوب	ورقه‌ی فلزی
شیر	آرد	گوجه فرنگی
شیشه	پلاستیک	پارچه
نخ	پشم	زغال
مس	چرم	کاغذ



کاربرگهی شماره‌ی ۶



بازدید از یک کارخانه

دانش‌آموزان یک مدرسه با معلم خود از کارخانه‌ی خودروسازی بازدید کردند.

مدیر کارخانه برای آن‌ها توضیح داد:

در این کارخانه حدود ۶۵۰۰ کارگر در ۷ سالن تولید مشغول به کار هستند. در بخش اداری کارخانه ۹۰۰ نفر کارمند کار می‌کنند که شامل مدیران، معاونان، مهندسان، نگهبانان، نظافتچی و... هستند.

این کارخانه روزانه حدود ۵۰۰ تا ۶۰۰ دستگاه خودرو تولید می‌کند و برای تولید این خودروها به مواد تولیدی کارخانه‌های دیگر نیاز دارند. برای مثال از کارخانه‌های دیگر پلاستیک، فولاد، چرم، چوب، شیشه و... خریداری می‌کنند. بیشتر دستگاه‌ها و ماشین‌آلات این کارخانه با برق کار می‌کنند. برخی محصولات این کارخانه به کشورهای دیگر صادر می‌شود.

عوامل تولید

نیروی کار: ۶۵۰۰ کارگر، ۹۰۰ نفر کارمند اداری

انرژی مورد نیاز: برق

مواد اولیه: پلاستیک، فولاد، چرم، چوب، شیشه و...

سرمایه و ماشین‌آلات: ساختمان کارخانه و ۷ سالن تولید و ماشین‌آلات و پول برای

خرید مواد اولیه و دستمزد کارکنان




کاربرگی شماره ۸

مقایسه‌ی انواع وسایل حمل و نقل

۱- برای هر یک از سفرهای زیر وسیله‌ی حمل و نقل و راه مناسب را انتخاب کنید و دلیل آن را بنویسید.

علت	نوع		
	وسيله‌ی حمل و نقل	راه	
چون در داخل کشور است و با وسیله‌های حمل و نقل عمومی هم می‌توان به سفر رفت.	وسيله‌ی شخصی، اتوبوس، قطار	زمینی، راه‌آهن	رفتن به شهرهای مشهد، شیراز یا گرگان در تعطیلات نوروز
سرعت بالا	هواپیما	هوایی	شرکت در مراسم حج (مکه)
برای حمل و نقل بارهای سنگین مناسب است.	کشتی	دریایی	بردن نفت و زغال سنگ به یک کشور دور
به علت نزدیکی	اتومبیل شخصی، اتوبوس	زمینی	رفتن به منزل یکی از اقوام در خارج شهر یا روستا

۲- در جدول زیر، خوبی‌ها و بدی‌های هر یک از وسایل نقلیه را بنویسید.

وسيله	خوبی‌ها 😊	بدی‌ها 😞
	ظرفیت زیاد برای جابه‌جایی بار و مسافر، امکان حمل و نقل کالاهای سنگین	حرکت کند - همه‌ی کشورها به دریا دسترسی ندارند.
	سرعت زیاد و صرفه‌جویی در زمان، مناسب برای حمل مسافر و کالاهای سبک	هزینه‌ی بالا
	سرعت و ایمنی زیاد و قدرت جابه‌جایی تعداد زیادی مسافر، ارزان است.	خطوط راه‌آهن در همه‌ی شهرها وجود ندارد

کاربرگی شماره ۹

چه کسانی کشور ما را اداره می‌کنند؟

۱- نمودار را کامل کنید.



- ۲- هر یک از اخبار زیر به فعالیت‌های کدام قوه مربوط است؟
 - قانون مالیات شرکت‌ها به تصویب رسید. (قوهی مقننه)
 - امروز رئیس جمهور کارخانهی فولاد را افتتاح کرد. (قوهی مجریه)
 - آقای سعیدی با یک نفر بر سر قرارداد خرید زمین اختلاف پیدا کرده است. (قوهی قضائیه)
 - وزیر راه اعلام کرد: خط آهن سریع‌السیر تهران - اصفهان ساخته می‌شود. (قوهی مجریه)
 - امروز قوانین جدید راهنمایی و رانندگی در مجلس بررسی می‌شود. (قوهی مقننه)

کاربرگی شماره‌ی ۱۰

جمهوری آذربایجان، ارمنستان

متن مربوط به جمهوری آذربایجان و ارمنستان را بخوانید. با توجه به نقشه و متن به طور گروهی به پرسش‌ها پاسخ دهید.

الف) نقشه خوانی

- ۱- نام رشته کوه اصلی آذربایجان ... قفقاز ... است.
- ۲- کدام رود بین ایران و جمهوری آذربایجان قرار دارد؟ این رود به کجا می‌ریزد؟
پاسخ: رود ارس به دریای خزر می‌ریزد.
- ۳- کدام شهر جمهوری آذربایجان و ایران، همنام هستند؟ **پاسخ:** آستارا
- ۴- اگر کسی بخواهد برای تعطیلات نوروز به کشور آذربایجان سفر کند، چه لباس‌هایی باید همراه خود ببرد؟ چرا؟ **پاسخ:** لباس گرم، چون آذربایجان سرزمینی کوهستانی و آب و هوای آن سرد است.
- ۵- چرا ماهیگیری در جمهوری آذربایجان رونق دارد؟ **پاسخ:** به خاطر نزدیک بودن به دریا
- ۶- چرا کشاورزی در جمهوری آذربایجان بسیار پر رونق است؟
پاسخ: به دلیل وجود جلگه‌های پست آبرفتی در نواحی داخلی و شرقی
- ۷- جمهوری آذربایجان در چه زمینه‌هایی با کشور ایران مشترک است؟
پاسخ: مسلمان هستند، عید نوروز، دارا بودن منابع نفت و گاز، صنایع دستی مشابه.
- ب) ۱- کدام رود، کشور ایران را از ارمنستان جدا می‌کند؟ **پاسخ:** رود ارس
- ۲- کشور ارمنستان را از نظر دسترسی به دریا با جمهوری آذربایجان مقایسه کنید. دسترسی یک کشور به دریا چه فایده‌هایی دارد؟
پاسخ: کشور ارمنستان به دریا راه ندارد. دسترسی به دریا باعث رونق مشاغل مرتبط، جذب گردشگر، استفاده از منابع غذایی دریایی و رونق حمل‌ونقل دریایی و ... می‌شود.

۳- چرا ارمنستان بیشتر مواد اولیه‌ی کارخانه‌های خود را از خارج وارد می‌کند؟
که پاسخ: چون از نظر منابع معدنی فقیر است.

۴- اگر روزی به کشور ارمنستان سفر کنید، چه غذایی سفارش می‌دهید و چه سوغاتی برای دوستانتان می‌آورید؟ که پاسخ: کباب، دلمه و آش و ماهی ایشخان، صنایع دستی.

۵- چرا به این کشور ارمنستان می‌گویند؟
که پاسخ: ۹۸ درصد از مردم این کشور ارمنی هستند.

کاربرگی شماره‌ی ۱۱

پاکستان، ترکمنستان

متن مربوط به پاکستان و ترکمنستان را بخوانید. با توجه به نقشه و متن به طور گروهی به پرسش‌ها پاسخ دهید.

الف) نقشه‌خوانی

۱- جلگه‌ی وسیع مرکزی پاکستان از آب‌رفت‌های کدام رود به وجود آمده است؟ که پاسخ: رود سند
۲- بندر مهم پاکستان در کناره‌ی اقیانوس هند چه نام دارد؟ چرا این بندر دارای اهمیت جهانی است؟

که پاسخ: بندر کراچی- زیرا از مهم‌ترین مراکز تجارت و صادرات و واردات دنیاست.

۳- چرا کشت برنج و پنبه در پاکستان رونق دارد؟

که پاسخ: به خاطر جلگه‌های وسیع حاصلخیز در پاکستان کشاورزی از فعالیت‌های مهم اقتصادی است و این محصولات به سرتاسر جهان صادر می‌شود.

۴- فرض کنید دوست شما می‌خواهد به پاکستان سفر کند. یک سوغاتی را نام ببرید تا برای شما بیاورد. که پاسخ: گلیم و فرش‌های دست‌بافت

۵- چرا کوه‌نوردان کشورهای مختلف، به سفر به پاکستان علاقه‌مندند؟

که پاسخ: در شمال غرب این کشور کوه‌های بلندی قرار دارد

۶- کشورهای ایران و پاکستان چه اشتراکاتی دارند؟

که پاسخ: مردمانش مسلمان هستند، عید فطر و عید قربان

ب) نقشه‌خوانی

۱- صحرای بزرگی که بخش عمده‌ای از کشور ترکمنستان را فرا گرفته است، چه نام دارد؟
که پاسخ: قره قوم

۲- رود آمودریا به کدام دریاچه می‌ریزد؟ که پاسخ: دریاچه آرال

- ۳- پایتخت و یک شهر مهم ترکمستان را نام ببرید. **کھ پاسخ:** عشق آباد - شهر مرو
- ۴- چرا قالی بافی از صنایع دستی عمده‌ی کشور ترکمنستان است؟ **کھ پاسخ:** از سال‌های دور به قالی بافی شهرت داشته و پنبه یکی از مهم‌ترین محصولات کشاورزی آن‌ها می‌باشد.
- ۵- مردم ترکمنستان به کدام ورزش علاقه‌ی زیادی دارند؟ چرا؟
- کھ پاسخ:** سوارکاری، سوارکاری یک ورزش پرطرفدار و اسب‌های ترکمن معروف هستند.
- ۶- کشور ایران با کشور ترکمنستان چه اشتراکاتی دارد؟
- کھ پاسخ:** مسلمان هستند، عید نوروز، وجود منابع نفت و گاز، صنایع دستی.

کاربرگی شماره‌ی ۱۲

زندگی بر روی نواحی مختلف زمین متن مربوط به شیوه‌های مختلف زندگی در قاره‌ی آسیا را بخوانید و جدول را کامل کنید. مقایسه کنید.

نوع فعالیت	مسکن	تغذیه	پوشش گیاهی و زندگی جانوری	آب و هوا	ناحیه کشور	
شکار	خانه‌ها در تابستان چادر از پوست گوزن و در زمستان قطعه‌های یخ و برف	شکار	پوشش گیاهی در این ناحیه درختان سوزنی برگ، حیوانات گوزن، خرس و روباه در این ناحیه زندگی می‌کنند.	بسیار سرد	شمال سибیری	
دام‌پروری	چادر نشین	از دام‌ها تغذیه می‌کنند	شتر، موش صحرایی و انواع خزندگان پوشش گیاهی در این ناحیه فقیر است	گرم و خشک	بیابان‌های عربستان	
شکار و میوه و سبزیجات و بعضی از آن‌ها در مزرعه‌ها بزرگ موز و نارگیل و آناناس کار می‌کنند	در جنگل خانه‌های چوبی	میوه‌های جنگلی سبزیجات	پوشش گیاهی در این ناحیه درختان پهن برگ است، حیوانات میمون، خرس و مار در این ناحیه زندگی می‌کنند.	هوا در طول سال گرم و هر روز باران می‌بارد	جنگل‌های اندونزی	

کاربرگی شماره‌ی ۱۳

عراق

متن مربوط به جمهوری عراق را بخوانید و با توجه به نقشه و متن، به طور گروهی به پرسش‌ها پاسخ دهید.

نقشه خوانی

- ۱- کشور عراق به کدام دریا راه دارد؟ **کھ پاسخ:** خلیج فارس
- ۲- مهم‌ترین بندر عراق چه نام دارد؟ **کھ پاسخ:** بندر بصره

۳- جلگه‌ی پهناور عراق از ابرفت کدام رودها پدید آمده است؟ **کھ پاسخ:** دجله و فرات

۴- دو شهر عراق را که چاه نفت دارند، نام ببرید.

کھ پاسخ: کرکوک، موصل

۵- شهرهای مقدس و زیارتی عراق را نام ببرید.

کھ پاسخ: کربلا و نجف، کاظمین و سامرا

۶- با توجه به نقشه‌ی روبه‌رو، پاسخ دهید.

(الف) نام رودها را بنویسید.

کھ پاسخ: دجله و فرات

(ب) بگویید کدام رود از داخل ایران به اروندرود می‌ریزد.

کھ پاسخ: رود کارون

۷- ایران و عراق در صادرات کدام کالا، شبیه به هم هستند؟

کھ پاسخ: نفت

۸- چرا کشور عراق آثار باستانی زیادی دارد؟

کھ پاسخ: در طول هزاران سال تمدن‌هایی مانند سومر و آکد و آشور در سرزمین بین‌النهرین

میان دو رود دجله و فرات به وجود آمد به همین دلیل در این کشور بناها و آثار باستانی

زیادی وجود دارد.

۹- چرا مردم عراق در شرایط سختی زندگی می‌کنند؟

کھ پاسخ: مردم عراق به دلیل جنگ‌های داخلی و حضور گروه‌های خارجی و ناامنی وضع

اقتصادی و اجتماعی نامناسب زندگی سخت و دشواری دارند.

کاربرگه‌ی شماره‌ی ۱۴

خط زمان تاریخ اسلام

با توجه به خط زمان، به سؤال‌های زیر پاسخ دهید.

۱- فتح مکه چند سال پس از هجرت پیامبر (ص) از مکه به مدینه اتفاق افتاد؟

کھ پاسخ: ۱۰ سال پس از هجرت

۲- واقعه‌ی عاشورا چند سال پس از هجرت پیامبر (ص) از مکه به مدینه اتفاق افتاد؟

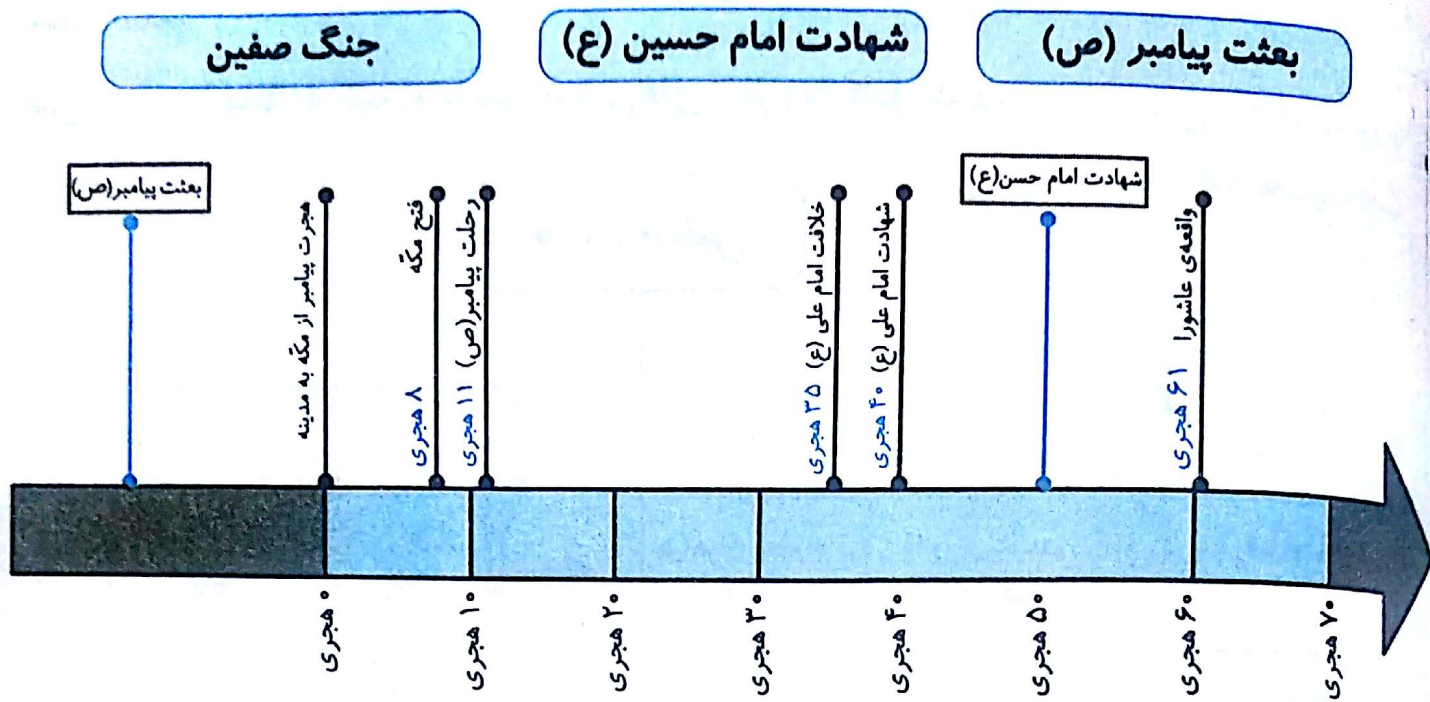
کھ پاسخ: ۶۱ سال پس از هجرت

۳- امام علی (ع) چند سال پس از رحلت پیامبر (ص) به خلافت رسیدند؟ حساب کنید.

کھ پاسخ: ۳۵ سال پس از هجرت



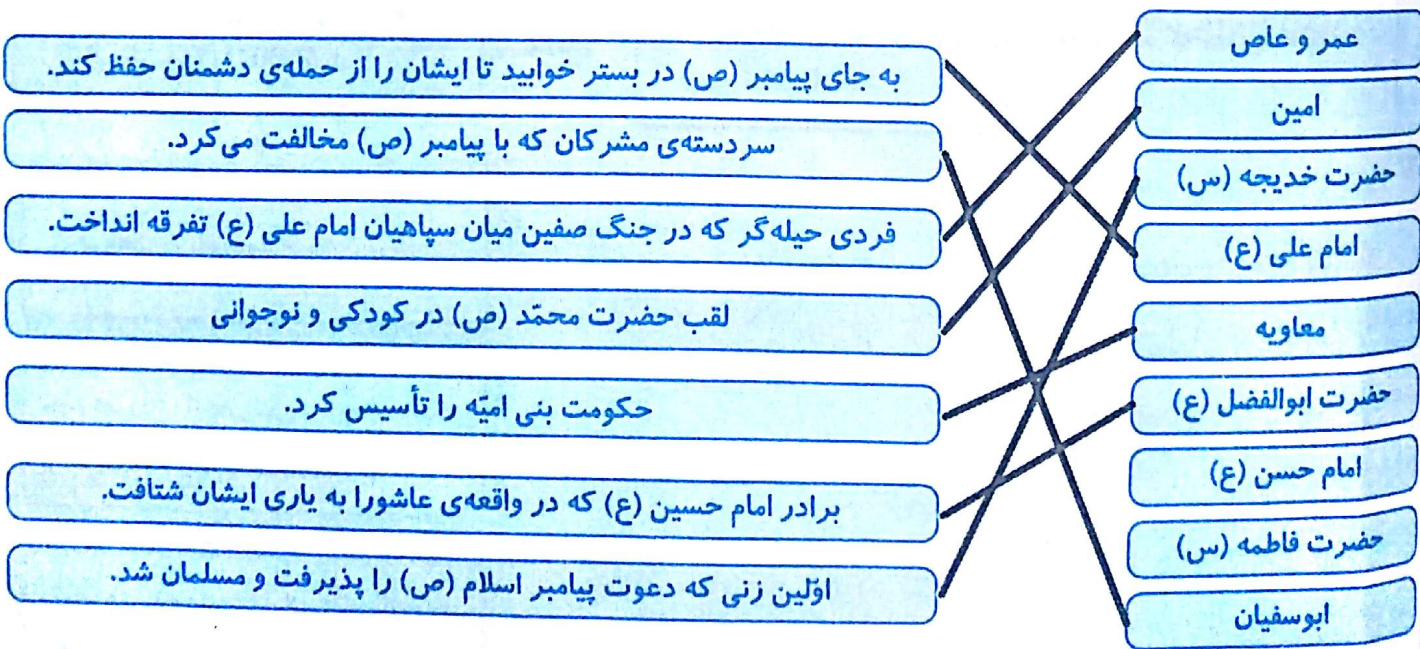
۴- دو مورد از نوشته‌های زیر را انتخاب کنید و در جای خالی روی عبارت خط زمان قرار دهید.



کاربرگی شماره‌ی ۱۵

شخصیت‌های تاریخ اسلام

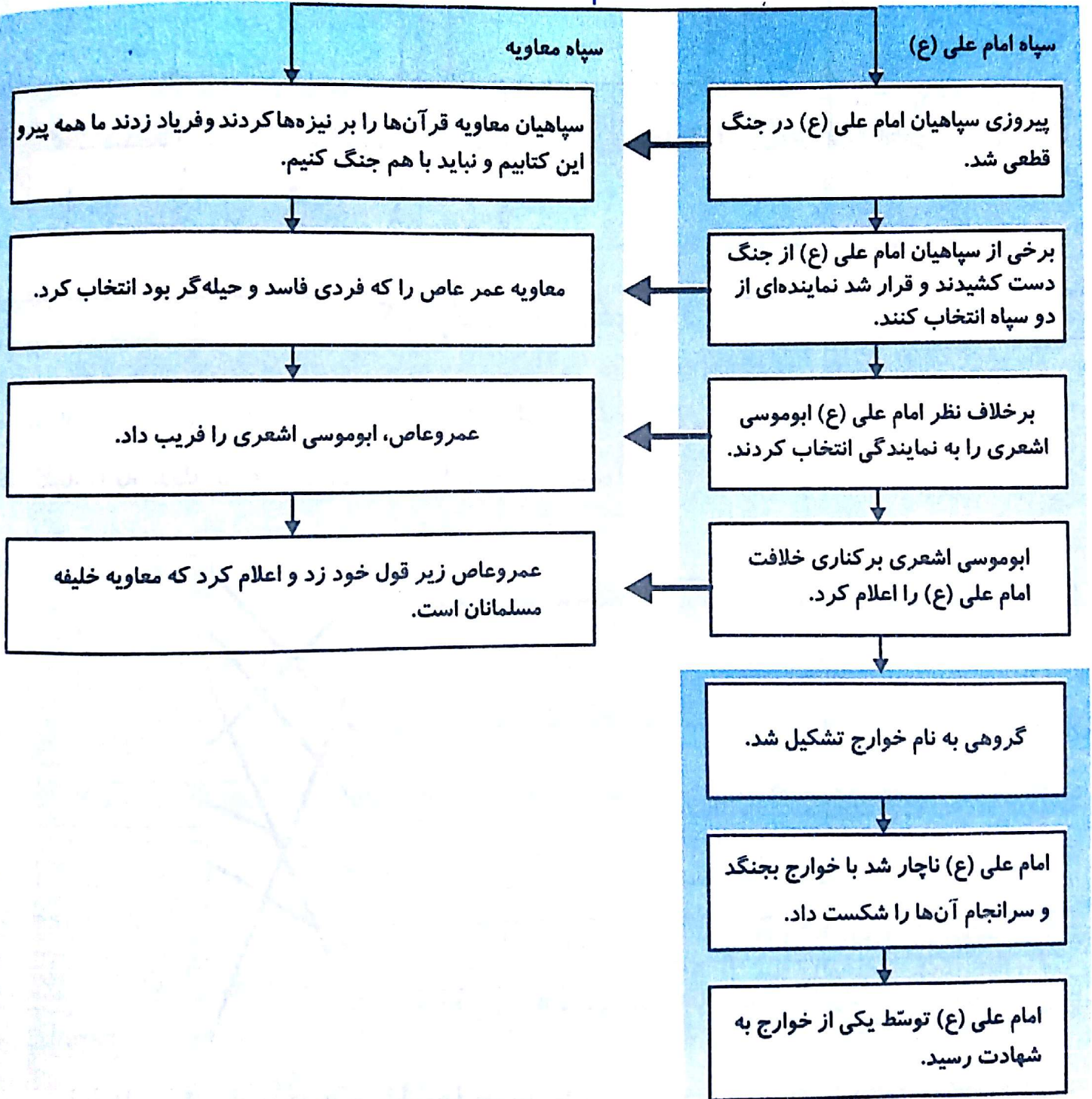
هر کلمه را به جمله یا عبارت مربوط به آن وصل کنید.



جنگ صفین

متن درس را مطالعه کنید و سپس ستون‌های خالی را کامل کنید.

جنگ صفین



وزیران کاردان

با توجه به درس «نقش خردمندان» در کتاب فارسی و با استفاده از کلمه‌های زیر، در مورد این شخصیت‌ها یک متن کوتاه بنویسید.



وزیر	رصدخانه	سلجوقیان	نظامیه
ریاضی‌دان	کاروان‌سرا	سعدی	ری

خواجه نظام‌الملک توسی، با تدبیر و توانایی علمی خود کارهای بزرگی انجام داد. او در دوازده شهر مهم آن روز، مدارس شبانه‌روزی تأسیس کرد که مانند دانشگاه‌های امروزی اداره می‌شدند. این مدارس به (نظامیه) معروف بودند. سعدی یکی از صدها دانشمندی است که در این مدارس، تحصیل کرده است. همچنین خواجه در شهر ری، رصدخانه‌ای ساخت که بسیاری از دانشمندان در آنجا به تحقیق مشغول شدند.



مغولان	ستاره‌شناس	رصدخانه	کتابخانه
مراغه	هلاکوخان	ایلخانیان	ریاضی‌دان

خواجه نصیرالدین توسی ریاضی‌دان، نویسنده و ستاره‌شناسی بزرگ ایرانی از وزیران ایرانی حکومت ایلخانیان بود. در آن زمان پادشاه هلاکوخان بود که به هوش و دانایی خواجه بسیار نیازمند بود. او اقدامات زیادی برای ایرانیان انجام داد از جمله تأسیس کتابخانه و رصدخانه‌ای بزرگ در شهر مراغه.