


نام و نام خانوادگی : به نام خدا

دبستان : آزمون ریاضی اول نوبت دوم

ادامه بده .

۱۴	۱۷	۲۰
۷۸	۸۰	۸۲



....	۱۷	۱۸	۱۹
....	۲۱	۲۳	۲۵


جمع ها را با استفاده از چوب خط حل کن .

$$۵ + ۳ + ۷ = \dots\dots$$

$$۴ + ۹ + ۲ = \dots\dots$$

علامت < = > بگذار .

$۵ - ۱۱$ ○ $۹ + ۷$	۱۵ ○ $۱۰ + ۱۰$	$۲۰ + ۲۲$ ○ ۴۲	۵ ○ $۱ + ۲$
--------------------	------------------	------------------	---------------



حسین ۱۳ عدد تخم مرغ خرید . ۲ تایی آن را نیمرو کرد .

حسین اکنون چند تخم مرغ دارد ؟

جمع و تفریق های زیر را انجام بده .

$$۳۴ + ۷ = \dots\dots$$

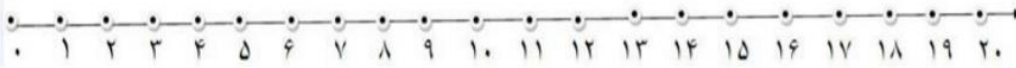
$$۱۵ + ۵ + ۵ + ۱۰ = \dots\dots$$

$$۱۸ + ۹ = \dots\dots$$

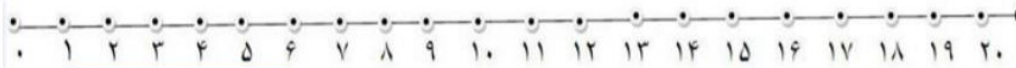
$$۲۰ + ۱۰ + ۱۰ + ۲۰ = \dots\dots$$

$20 - 15 = \dots$ $18 - 6 = \dots$ $32 - 5 = \dots$ $15 - 7 = \dots$


جمع و تفریق های زیر را روی محور نشان بده .



$9 + 6 = \dots$



$17 - 5 = \dots$




یکی | ده تایی

جاهای خالی را با عدد مناسب پر کن .

به عدد به حروف :

۵	۴	۱	۷	۳	۸	۹	۲	۶
۶	۲	۳	۵	۹	۴	۱	۸	۷
۷	۹			۶			۸	۱
۸	۷			۴			۸	۱
۹	۴	۶	۳	۱	۸	۷	۵	۲
۸	۱			۵		۶	۳	۴
۳	۹			۸			۶	۳
۱	۶	۸	۵	۲	۳	۴	۷	۹
۳	۵	۴	۹	۷	۶	۲	۱	۸

جدول شگفت انگیز را کامل کن .



باز خورد آموزگار :
